

Документ подписан простой электронной подписью
Информация о владельце:
ФИО: Кислова Наталья Николаевна
Должность: Проректор по УМР и качеству образования
Дата подписания: 09.02.2023 10:46:16
Уникальный программный ключ:
52802513f5b14a975b3e9b13008093d5726b159bf6064f865ae65b96a966c035


МИНИСТЕРСТВО ПРОСВЕЩЕНИЯ РОССИЙСКОЙ ФЕДЕРАЦИИ

Федеральное государственное бюджетное образовательное учреждение высшего образования
«Самарский государственный социально-педагогический университет»

Кафедра химии, географии и методики их преподавания

Утверждаю

Проректор по учебно-методической
работе и качеству образования

 Н.Н. Кислова

Казанцев Иван Викторович

ФОНД ОЦЕНОЧНЫХ СРЕДСТВ

для проведения промежуточной аттестации по дисциплине
«Методы комплексных физико-географических исследований»

Направление подготовки

44.03.05 Педагогическое образование (с двумя профилями подготовки)

Направленность (профиль)

«Безопасность жизнедеятельности» и «Дополнительное образование (естественнонаучная направленность)»

Квалификация выпускника

Бакалавр

Рассмотрено

Протокол № 1 от 26.08.2021 г.

Заседания кафедры химии, географии и методики
их преподавания

Одобрено

Начальник Управления образовательных
программ



Н.А. Доманина

Пояснительная записка

Фонд оценочных средств (далее – ФОС) для промежуточной аттестации по дисциплине «Методы комплексных физико-географических исследований» разработан в соответствии с требованиями федерального государственного образовательного стандарта высшего образования – бакалавриат по направлению подготовки 44.03.05 Педагогическое образование (с двумя профилями подготовки), утвержденного приказом Министерства образования и науки Российской Федерации от 22 февраля 2018 г. № 125 (зарегистрирован Министерством юстиции Российской Федерации 15 марта 2018 г., регистрационный № 50358), с изменениями, внесенными приказами Министерства науки и высшего образования Российской Федерации от 26 ноября 2020 г. № 1456 (зарегистрирован Министерством юстиции Российской Федерации 27 мая 2021 г., регистрационный № 63650) и от 8 февраля 2021 г. № 83 (зарегистрирован Министерством юстиции Российской Федерации 12 марта 2021 г., регистрационный № 62739), основной профессиональной образовательной программой «Безопасность жизнедеятельности» и «Дополнительное образование (естественнонаучная направленность)» с учетом требований профессионального стандарта «01.001 Педагог (педагогическая деятельность в сфере дошкольного, начального общего, основного общего, среднего общего образования) (воспитатель, учитель)», утвержденного приказом Министерства труда и социальной защиты Российской Федерации от 18 октября 2013 г. № 544н. (зарегистрирован Министерством юстиции Российской Федерации 6 декабря 2013 г., регистрационный № 30550), с изменениями, внесенными приказами Министерства труда и социальной защиты Российской Федерации от 25 декабря 2014 г. № 1115н (зарегистрирован Министерством юстиции Российской Федерации 19 февраля 2015 г., регистрационный № 36091) и от 5 августа 2016 г. № 422н (зарегистрирован Министерством юстиции Российской Федерации 23 августа 2016 г., регистрационный № 43326).

Цель ФОС для промежуточной аттестации – установление уровня сформированности части компетенции.

Задачи ФОС для промежуточной аттестации - контроль качества и уровня достижения результатов обучения по формируемым в соответствии с учебным планом компетенциям.

ОПК-8. Способен осуществлять педагогическую деятельность на основе специальных научных знаний

ОПК-8.1. Знает: историю, теорию, закономерности и принципы построения и функционирования образовательного процесса, роль и место образования в жизни человека и общества, современное состояние научной области, соответствующей преподаваемому предмету; прикладное значение науки; специфические методы научного познания в объеме, обеспечивающем преподавание учебных предметов

Знает основные методы и приборы для сбора физико-географической информации

Требование к процедуре оценки:

Помещение: особых требований нет

Оборудование: ноутбук и принтер для распечатывания материалов, транспортиры, набор карт

Расходные материалы: бумага и картридж.

Доступ к дополнительным справочным материалам: справочникам, дидактическим материалам.

Нормы времени: 40 мин.

Проверяемая (ые) компетенция (и) (из опоп во):

ОПК-8. Способен осуществлять педагогическую деятельность на основе специальных научных знаний

Проверяемый индикатор достижения компетенции:

ОПК-8.1. Знает: историю, теорию, закономерности и принципы построения и функционирования образовательного процесса, роль и место образования в жизни человека и общества, современное состояние научной области, соответствующей преподаваемому предмету; прикладное значение науки; специфические методы научного познания в объеме, обеспечивающем преподавание учебных предметов

Проверяемый (ые) результат (ы) обучения:

Знает основные методы и приборы для сбора физико-географической информации

Тип (форма) задания: тест

Пример типовых заданий (оценочные материалы):

Задание № 1 (○ – выберите один вариант ответа)

К методам обработки исходных данных относится:

1. экспериментальный
2. картографический
3. экспедиционный
4. стационарный

Задание № 2 (○ – выберите один вариант ответа)

На каких точках комплексных описаний проводят самые подробные исследования:

1. основные
2. картировочные
3. опорные
4. специализированные

Задание № 3 (○ – выберите один вариант ответа)

На каком этапе проведения экспедиции проводят составление отчета

1. камеральный
2. полевой

3. подготовительный

4. картировочный

Задание № 4 (○ – выберите один вариант ответа)

С помощью какого прибора определяют цвет черты некоторых минералов:

1. геологический молоток

2. бисквит

3. компас

4. зубило

Задание № 5 (○ – выберите один вариант ответа)

Какие элементы речной долины изучаются на местности:

1. русло

2. пойма

3. надпойменные террасы

4. все варианты верные

Задание № 6 (○ – выберите один вариант ответа)

Цифра 5 у теодолита ЗТ5КП означает:

1. точность измерения в минутах

2. поколение

3. точность измерения в секундах

4. все варианты верные

Задание № 7 (○ – выберите один вариант ответа)

Чему 5 см на карте масштаба 1:150 000 соответствует на местности:

1. 7,5 м

2. 75 см

3. 7,5 км

4. 75 км

Задание № 8 (○ – выберите один вариант ответа)

Красновато-ржавый, охристый цвет почвы указывает на присутствие в ней:

1. гумусовых соединений

2. оксидов меди

3. карбонатов

4. оксидов железа

Задание № 9 (○ – выберите один вариант ответа)

У какой почвы при изучении механического состава образуется кольцо без трещин:

1. среднего суглинка

2. легкого суглинка

3. глины

4. супеси

Задание № 10 (○ – выберите один вариант ответа)

К новообразованиям в почве относят:

1. прожилки гипса

2. корни деревьев

3. кости животных

4. все варианты верные

Задание № 11 (○ – выберите один вариант ответа)

Обследование выходов подземных вод состоит:

1. в замера уровня воды от какой-либо определенной точки на поверхности – для колодцев и буровых скважин

2. в замера количества вытекающей воды – для источников и родников

3. в определении физико-химических свойств воды

4. все варианты верные

Задание № 12 (○ – выберите один вариант ответа)

Какой пост применяется на реках со значительной амплитудой колебания уровня воды:

1. цепной

2. свайный

3. речной

4. ледемерный

Задание № 13 (○ – выберите один вариант ответа)

С помощью батометра-тахиметра определяют:

1. скорость течения воды

2. уровень грунтовых вод

3. толщину льда

4. цвет воды

Задание № 14 (○ – выберите один вариант ответа)

С помощью диска Секки определяют:

1. запах воды
2. скорость течения воды
3. прозрачность воды
4. уровень грунтовых вод

Задание № 15 (○ – выберите один вариант ответа)

Как называется прибор для измерений скорости ветра и газовых потоков:

1. гигрометр
2. психрометр
3. барометр
4. анемометр

Задание № 16 (○ – выберите один вариант ответа)

Как называется прибор для непрерывной записи изменений относительной влажности воздуха:

1. гигрограф;
2. барограф;
3. пьювиограф;
4. анеморумбограф;

Задание № 17 (○ – выберите один вариант ответа)

Гелиограф – это прибор для:

1. измерения радиационного баланса
2. автоматической регистрации продолжительности солнечного сияния
3. измерения суммарной и рассеянной солнечной радиации, поступающей на горизонтальную поверхность
4. непрерывной регистрации суммарной (прямой и рассеянной) или рассеянной солнечной радиации

Задание № 18 (○ – выберите один вариант ответа)

Какие показатели верны для метеостанции:

1. стандартная площадка делается квадратной формы размером 26х26 м
2. площадка ориентируется по сторонам горизонта
3. зимой снег не убирается
4. все варианты верные

Задание № 19 (○ – выберите один вариант ответа)

Какая форма рельефа изображена с помощью горизонталей и бергштрихов на рисунке



1. лощина
2. котловина
3. гора
4. хребет

Задание № 20 (○ – выберите один вариант ответа)

С помощью термометра Савинова измеряют:

1. температуру почвы
2. температуру воздуха
3. температуру воды в реке
4. температуру грунтовых вод

Задание № 21

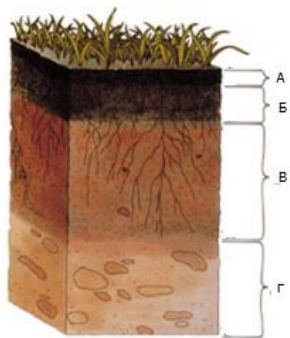
Установите соответствие между понятием и определением:

Понятие	Определение
1 прозрачность	А способность минерала отражать свет своими поверхностями
2 блеск	Б способность минерала пропускать через себя свет
3 твёрдость	В способность минерала раскалываться при ударе молотком по определенным поверхностям
	Г способность минерала сопротивляться внешним механическим воздействиям (царапинам, резанию, стиранию)

Задание № 22

Установите соответствие между характеристикой и почвенным горизонтом.

1. подстилка.
2. материнская порода.
3. горизонт аккумуляции органического вещества или гумусовый горизонт.



Задание № 23

Установите соответствие между метеорологическим прибором и его названием:

1. термограф
2. гигрометр
3. флюгер Вильда


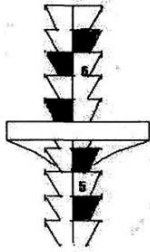
<p>A thermograph instrument with a vertical frame and a curved scale at the bottom.</p>	<p>A weather vane with a vertical pole, a horizontal arm with a cup (1), a tail fin (2), and a rotating top with a pointer (5) and other components (3, 4, 6, 7).</p>
<p>A hygrometer with a vertical frame, a central bulb (5), a small circular component (2), and a horizontal arm with a rectangular plate (3) and a cylindrical part (4).</p>	<p>A rectangular instrument with a handle on top and a roll of paper inside, used for recording temperature data.</p>
А	Б
Б	Г

Задание № 24

Установите соответствие между гидрологическим прибором и его названием:

1. свисток
2. свинцовый груз
3. автоматическая рейка





<p>A rectangular instrument with a vertical frame and a curved scale at the bottom, used for measuring water level.</p>	<p>A lead weight consisting of a vertical string with a hook at the top and a conical lead weight at the bottom.</p>
А	Б

	
В	Г

Задание № 25

Установите соответствие между родом облаков и фотографией:

1. слоистые
2. кучевые
3. перистые

	
А	Б
	
В	Г

Оценочный лист к типовому заданию (модельный ответ):

№ вопроса	ответ	баллы	№ вопроса	ответ	баллы	№ вопроса	ответ	баллы
1	2	0,5	11	4	0,5	21	1-Б, 2-А, 3-Г	1
2	3	0,5	12	2	0,5	22	1-А, 2-Г, 3-Б	1
3	1	0,5	13	1	0,5	23	1-Г, 2-А, 3-Б	1
4	2	0,5	14	3	0,5	24	1-В, 2-Б, 3-Г	1
5	4	0,5	15	4	0,5	25	1-В, 2-А, 3-Б	1
6	3	0,5	16	1	0,5			
7	3	0,5	17	2	0,5			
8	4	0,5	18	4	0,5			
9	3	0,5	19	3	0,5			
10	1	0,5	20	1	0,5			

Максимальное количество баллов за правильно выполненный тест – 15.

Методические материалы, определяющие процедуру и критерии оценивания сформированности компетенций при проведении промежуточной аттестации

Промежуточная аттестация проводится в соответствии с расписанием одновременно у всех студентов группы. Обучающиеся выполняют тестовое задание письменно. Студенты рассаживаются в аудитории за партами по одному. Каждому студенту выдается лист с заданиями и листы для ответов. На выполнение заданий отводится 40 минут. По истечении этого времени преподаватель проверяет работы и выставляет набранные студентом баллы в соответствии с оценочным листом (модельным ответом). Далее он вносит баллы, набранные студентами за выполненное тестовое задание, в балльно-рейтинговую карту дисциплины, подсчитывает общее количество баллов, набранных студентом в процессе изучения курса «Методы комплексных физико-географических исследований», и переводит их в итоговый результат:

Общее количество набранных баллов		Итоговый результат
min	max	
0	55	не зачтено
56	100	зачтено

Уровень сформированности части компетенций соответствует следующей градации:

- пороговый уровень: 56-70 баллов.
- продвинутый уровень: 71-85 баллов.
- высокий уровень: 86-100 баллов.

Если необходимо аттестовать студента исключительно по тестовому заданию, то преподавателем применяется следующая градация:

Количество набранных баллов	Итоговый результат
8 и менее	не зачтено
9 и более	зачтено

При этом, количество баллов, набранное студентом, высчитывается согласно пропорции, в которой 15 баллов за выполненное задание принимается за 100 баллов в экзаменационной ведомости.